

Proiect POCU/784/6/24/139636 InfoAcces/ Activitatea 3. Servicii de suport educațional
Clasa a III-a

Fișă individuală de lucru

1. Scrie numerele naturale:

- de la 47 la 54
- de la 234 la 244, din 2 în 2.....
- de la 685 la 660, din 5 în 5

2. Se dau numerele naturale: 253, 108, 41, 876, 232, 401, 323, 401, 322, 690, 786, 69.

- Așează în ordine crescătoare numerele date:

.....

- Așează în ordine descrescătoare doar numerele pare:

.....

3. Scrie cu:

cifre		litere	
patru sute cinci		489	
cincizeci și doi		38	
o mie		317	

4. Compară numerele, punând semnul $<$, $>$ sau $=$:

$$453 \square 543$$
$$151 \square 51$$

$$629 \square 269$$
$$607 \square 677$$

$$278 \square 278$$
$$180 \square 108$$

5. Calculează:

$$34 + 42 =$$

$$820 + 127 =$$

$$25 + 68 =$$

$$371 + 219 =$$

$$97 - 35 =$$

$$775 - 142 =$$

$$82 - 77 =$$

$$583 + 406 =$$

6. Află numărul necunoscut:

$$a - 302 = 189$$

$$a = \dots\dots\dots$$

$$a = \dots\dots$$

$$V: \dots\dots\dots$$

$$b + 237 = 493$$

$$b = \dots\dots\dots$$

$$b = \dots\dots$$

$$V: \dots\dots\dots$$

$$621 - c = 249$$

$$c = \dots\dots\dots$$

$$c = \dots\dots$$

$$V: \dots\dots\dots$$

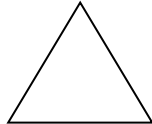
7. La suma numerelor 28 și 164 adaugă diferența numerelor 736 și 583.

.....
.....
.....
.....

8. Scrie denumirea fiecărei figuri geometrice:




.....



.....



.....




.....

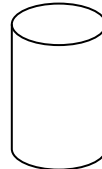
9. Scrie denumirea fiecărui corp geometric:



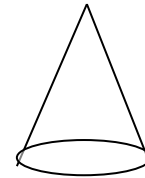
.....



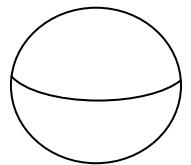
.....



.....



.....



.....

10. Într-u butoi sunt 176 litri de vin, iar în altul sunt cu 28 litri mai puțin.
Câți litri de vin sunt în cele două butoaie în total ?

.....
.....
.....
.....
.....

11. Mama cumpără pentru copiii săi un trenuleț cu 328 lei și o păpușă cu 157 lei.
Ce rest primește de la o bacnotă de 500 ?



.....
.....
.....
.....

12. Marcel se trezește dimineața la ora 7, iar frățiorul lui mai doarme încă 2 ore și 30 minute.

La ce oră se va trezi fratele lui Marcel?

Marchează pe ceas ora la care se trezește Marcel, respectiv ora la care se trezește fratele lui!

.....



.....