


Proiect POCU/784/6/24/139636 InfoAcces/ Activitatea 3. Servicii de suport educațional
Clasa a II-a

Fisa de lucru


1. Unește figurile geometrice de mai jos cu denumirile lor:



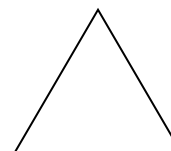
pătrat



dreptunghi



triunghi



cerc

2. Completează spațiile libere cu numerele corespunzătoare:

- Cel mai mare număr par de două cifre este _____ .
- Cel mai mic număr de trei cifre distincte este _____ .
- Cel mai mare număr care poate fi scris cu cifrele 3, 0, 9 este _____ .

3. Alege varianta corectă:

- Suma numerelor 26 și 64 este: 88; 80; 90.
- Diferența numerelor 93 și 39 este: 60; 54; 66.

4. Unește operațiile cu rezultatele corecte:

| | |
|-------------|-----|
| $12 + 24$ | 75 |
| $48 + 35$ | 36 |
| $68 - 45$ | 489 |
| $92 - 17$ | 448 |
| $169 + 320$ | 83 |
| $478 + 166$ | 431 |
| $593 - 162$ | 644 |
| $937 - 489$ | 23 |