

Proiect POCU/784/6/24/139636 InfoAcces/ Activitatea 3. Servicii de suport educațional

Clasa: a 7-a

Fișă individuală de lucru

timp estimat de lucru (ore): 16

Să se **recapituleze** noțiunile următoare:

Cercul

Elementele cercului

Centrul cercului

Raza cercului

Diametrul cercului

Coardă în cerc

Arc de cerc

Poziția unei drepte față de un cerc.

Dreapta exterioră cercului

Dreaptă tangentă cercului

Dreaptă secantă

Poziția a două cercuri

Cercuri exterioare

Cercuri tangente exterior

Cercuri tangente interior

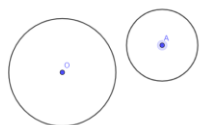
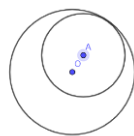
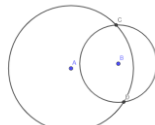
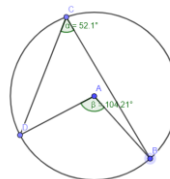
Cercuri secante

Cerc interior

Cercuri concentrice

Unghi la centru

Unghi înscris în cerc

Exemple**Exterioare****tangente****tangente
interior****secante****unghi la centru
unghi înscris în cerc****Exerciții:**

Aflați măsurile unghiurilor triunghiului ABC în fiecare din cazurile următoare

