

POCU/784/6/24/139636

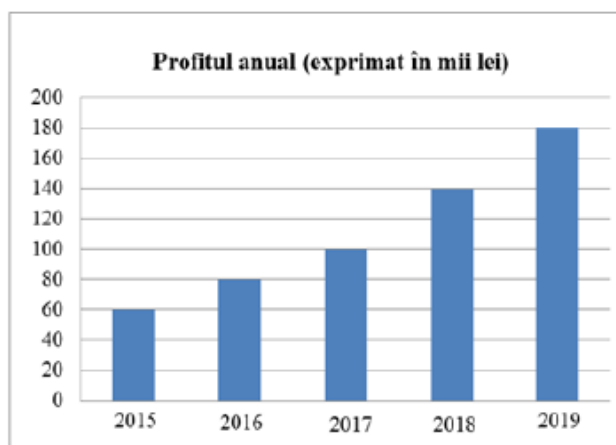
InfoAcces

Fisa de lucru 2

- A. Studiu după notițe/manual
- B. Activități pentru accelerarea învățării: Interpretarea datelor în testele de evaluare națională
- C. Documentare multimedia și aprofundare pe baza tehnologiilor digitale
- D. Să se rezolve următorul test

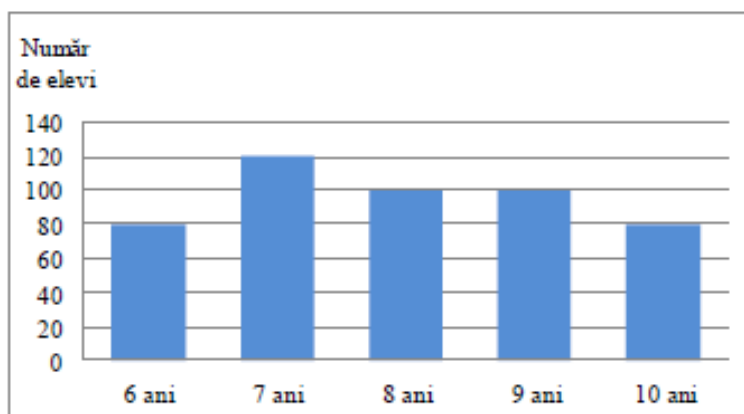
Exerciții

- 1 În diagrama de mai jos este prezentat profitul anual, exprimat în mii lei, realizat de o firmă în fiecare dintre ultimii cinci ani.



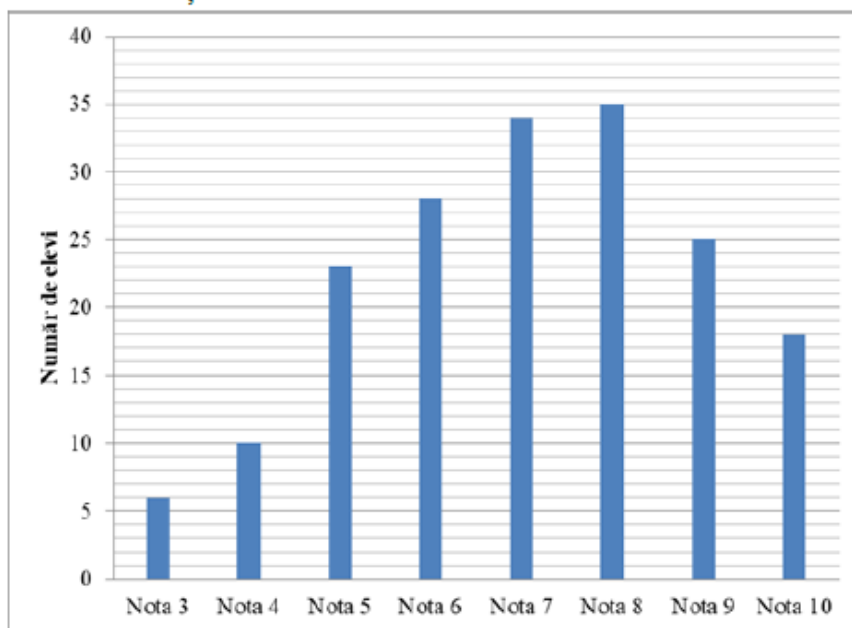
Conform informațiilor din diagramă, media profitului firmei, pentru ultimii cinci ani, este egală cu ... mii lei .

- 2 În diagrama de mai jos este prezentată repartitia după vârstă a elevilor unui club sportiv.



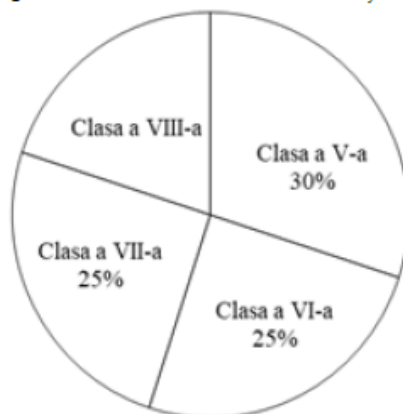
Conform informațiilor din diagramă, numărul elevilor acestui club sportiv care au vârsta de cel mult 8 ani este egal cu

- 3 În diagrama de mai jos este prezentată repartizarea notelor obținute la un test inițial la matematică, de elevii claselor a VIII-a dintr-o școală.



Conform informațiilor din diagramă, numărul elevilor care au obținut nota 8 este mai mare decât numărul elevilor care au obținut nota 4 cu ...

- 4 În clasele de gimnaziu ale unei școli sunt înscriși 500 de elevi. În diagrama de mai jos este prezentată repartizarea procentuală, pe clase, a elevilor din această școală.



Conform informațiilor din diagramă, numărul de elevi din clasele a VIII-a este egal cu ...

- 5 În tabelul de mai jos este prezentată repartizarea elevilor unei clase a VIII-a, în funcție de mediile obținute la matematică, pe semestrul I.

Media	4	5	6	7	8	9	10
Număr elevi	1	4	5	7	6	5	2

Conform informațiilor din tabel, numărul elevilor din această clasă care au obținut la matematică, pe semestrul I, cel puțin media 9 este egal cu ...

Bibliografie

1. Constantin Basarab, Cătălin Cristea, Dănuț Drăcea, Dan Seclăman., Matematică: Manual pentru clasa a VIII-a, Editura CD PRESS, 2020
2. Dorin Liņț ș.a., Matematică : Manual pentru clasa a VIII-a, Editura Litera, 2020
3. Documentare multimedia
 - a) https://www.youtube.com/watch?v=W_RJD5jYLko
 - b) <https://www.youtube.com/watch?v=Kq6QU80rAMc>